

- 1) **Cosa s'intende quando nella stampa internazionale si parla dei "PIGS"?**
  - A) Dei movimenti di protesta anti europei
  - B) Dei prodotti finanziari che hanno avvelenato il mercato del credito
  - C) Degli stati dell'area mediterranea
  - D) Dei prodotti del mercato cinese venduti sottocosto
  
- 2) **Individua il rapporto anomalo:**
  - A) Tignoso – Avaro
  - B) Algido – Freddo
  - C) Pleonastico – Necessario
  - D) Astruso – Complicato
  
- 3) **Nell'Italia postunitaria del 1861 quali Regioni non appartenevano al Regno d'Italia?**
  - A) La Sicilia e la Calabria
  - B) La Sicilia e il Lazio
  - C) Il Lazio e il Veneto
  - D) La Sardegna e il Lazio
  
- 4) **Completa la seguente frase:**  
"Un altro elemento fondamentale è la contestualizzazione: ... cogliere dal documento progettuale il motivo per cui la proposta è utile in quel contesto specifico, quale valore aggiunto il progetto porta nell'ambito ... si propone e che, viceversa, non porterebbe altrove" (De Ambrogio, Dessi e Ghetti, 2013, p. 51).
  - A) si potrebbe – a cui
  - B) merita – in cui
  - C) si deve – in cui
  - D) dover – che
  
- 5) **La sorella di mio padre ha sposato un ragazzo norvegese. Come molti norvegesi ha capelli biondi e occhi chiari. Pertanto:**
  - A) Tutti i norvegesi hanno capelli biondi e chiari
  - B) Il marito di mia zia è biondo ed ha gli occhi azzurri
  - C) Mio zio è un norvegese biondo e con gli occhi chiari
  - D) Alcuni norvegesi hanno capelli biondi e occhi azzurri
  
- 6) **Cosa s'intende con il termine "Primavera araba"?**
  - A) Una caratteristica meteorologica particolare della primavera nei paesi arabi
  - B) Un insieme di movimenti politici e di proteste sociali nel mondo arabo
  - C) Un movimento artistico progressista arabo
  - D) Un movimento religioso progressista arabo
  
- 7) **Qual è il numero il cui quadruplo meno 5 è uguale a 3 ?**
  - A) 4
  - B) 3
  - C) 2
  - D) 8

8) Il contrario di eterogeneo è:

- A) Ortodosso
- B) Differente
- C) Simile
- D) Vario

9) Completa la seguente frase:

**“Dal momento che l’agire professionale richiede di non subire inermi scelte altrui, rappresenta un ... deontologico costruire azioni individuali e collettive che evidenzino i bisogni in modo chiaro, portino dati, sviluppino sapere, dichiarino le responsabilità – quelle della professione e quelle dei decisori politici – e sviluppino le ... necessarie in un percorso ... che dura tutta la vita professionale” (Filippini e Bianchi, 2013, p. 119).**

- A) potere – abilità – educativo
- B) diritto – competenze – formante
- C) dettame – conoscenze – accademico
- D) dovere – competenze – formativo

10) Una pasticceria prepara 150 pasticcini in 10 ore. Quanti pasticcini vengono preparati in 3 ore?

- A) 40
- B) 44
- C) 50
- D) 45


11) Quante sono le organizzazioni mafiose italiane?

- A) 2
- B) 3
- C) 4
- D) 5


12) Se si soffre in gioventù si è felici in vecchiaia e viceversa; Luigi è vecchio ma non è felice; se non si soffre in gioventù però si vive a lungo. Se le precedenti affermazioni sono vere, allora è sicuramente vero che:

- A) Anche chi soffre in gioventù vive a lungo
- B) Chi è felice in vecchiaia vive a lungo
- C) Luigi ha sofferto in gioventù
- D) Luigi vive a lungo

Osserva le seguenti rappresentazioni grafiche.




a



b



c



d



e

13) Quale tra le 5 rappresentazioni grafiche corrisponde alla relazione insiemistica tra i seguenti 3 termini? **Abitazioni in Verona, Monolocali, Bilocali**

- A) a
- B) b
- C) d
- D) Nessuna delle precedenti

14) Quale tra le 5 rappresentazioni grafiche corrisponde alla relazione insiemistica tra i seguenti 3 termini? **Europei, Persone che parlano inglese, Italiani**

- A) a
- B) e
- C) b
- D) c

15) Quale tra le 5 rappresentazioni grafiche corrisponde alla relazione insiemistica tra i seguenti 3 termini? **Dischi, chitarre, cantanti**

- A) b
- B) d
- C) e
- D) a

16) Per uno straniero non comunitario in Italia, quanti anni di residenza sono necessari per ottenere la cittadinanza?

- A) 3 anni
- B) 5 anni
- C) 7 anni
- D) 10 anni

17) Completa l'uguaglianza: **Etologia : ? = Enologia : Spumante**

- A) Studio
- B) Giraffa
- C) Classificazione
- D) Alcol


18) Indica la parola da scartare:

- A) Novella
- B) Romanzo
- C) Biografia
- D) Intervista

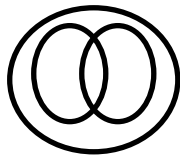
19) Allo scoppio della prima guerra mondiale quale posizione aveva Benito Mussolini in merito alla partecipazione dell'Italia al conflitto?

- A) Sosteneva l'entrata in guerra a fianco della Francia e Inghilterra
- B) Sosteneva la neutralità
- C) Sosteneva il riarmo
- D) Sosteneva l'entrata in guerra a fianco della Germania e dell'Austria

20) 'Tutti gli A non sono B' è correttamente rappresentata da:



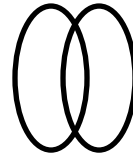
a



b



c



d



e

- A) e
- B) b
- C) d
- D) a

21) Completa i termini mancanti della proporzione: Insolito : x = y : Lento

- A) x = leggero, y = veloce
- B) x = solito, y = fermo
- C) x = indolente, y = leggero
- D) x = solito, y = veloce

22) Qual è la più meridionale delle isole italiane?

- A) Pantelleria
- B) Lampedusa
- C) Linosa
- D) Ustica

23) Nella Francia prerivoluzionaria chi rappresentava il "Terzo Stato"?

- A) Tutti, eccetto la nobiltà e il clero
- B) La nobiltà
- C) Il clero
- D) La nobiltà e il clero

24) Paola dice a Marco: "Se sabato c'è bel tempo, vado in montagna. Se sta bene, porto anche la zia". È sabato pomeriggio; Marco vede Paola passeggiare vicino all'Arena di Verona. Allora sicuramente:

- A) C'è bel tempo, ma la zia di Paola non sta bene
- B) Non c'è bel tempo e la zia di Paola non sta bene
- C) La zia non sta bene
- D) Non c'è bel tempo

**Leggi il seguente brano e rispondi alle relative domande:**

“È ben ragion, s’egli averrà ch’in pace  
il buon popol di Cristo unqua si veda,  
e con navi e cavalli al fero Trace  
cerchi ritor la grande ingiusta preda,  
ch’a te lo scettro in terra o, se ti piace  
l’alto imperio de’ mari a te conceda.  
Emulo di Goffredo, i nostri carmi  
intanto ascolta, e t’apparecchia a l’armi. ”

**25) Il brano è tratto dalla “Gerusalemme Liberata”, opera di:**

- A) Niccolò Machiavelli
- B) Torquato Tasso
- C) Alessandro Manzoni
- D) Ludovico Ariosto

**26) Individua la corretta parafrasi dell’espressione “t’apparecchia a l’armi”?**

- A) Apparecchia le armi
- B) Arrenditi
- C) Le armi sono pronte
- D) Preparati a combattere

**27) Paolo lavora di notte. Di notte, tutti gli uffici sono chiusi. Pertanto:**

- A) Paolo non lavora
- B) Paolo non lavora in un ufficio
- C) Paolo lavora in un ufficio
- D) Gli uffici di giorno sono aperti

**28) In Italia la legge sull’interruzione di gravidanza prevede che ...**

- A) L’aborto è libero ma regolamentato per legge
- B) L’aborto è completamente libero
- C) L’aborto è libero solo in caso di pericolo per la salute della donna
- D) L’aborto non è mai consentito per le minorenni

**29) Completa l’uguaglianza: Acquatico : Acqua = Selvatico : ?**

- A) Selvaggio
- B) Selvaggina
- C) Selva
- D) Selvoso

**30) Completa la seguente serie: 32U – 28Q – 24M – ? – 16C**

- A) 20H
- B) 20G
- C) 18G
- D) 20I

**31) In quale anno l’Algeria ottenne l’indipendenza dalla Francia?**

- A) 1861
- B) 1919
- C) 1945
- D) 1962

**32) Individua quale delle seguenti frasi contiene un errore:**

- A) Se avessi saputo che stavi male sarei tornato prima dal lavoro
- B) Se ero più attento non avrei perso le chiavi di casa
- C) Mi chiese se sarei andato a fare la spesa
- D) Ho immaginato che Marco preferisse riposare

**33) Se: “Tutti gli assistenti sociali sono portati per la sociologia. Anna ama ballare. Chi ama ballare ha un debole per gli uomini.” Quale delle seguenti affermazioni è sicuramente vera?**

- A) Non si può negare che Anna abbia un debole per gli uomini.
- B) Tutti gli assistenti sociali amano ballare.
- C) Chi è portato per la sociologia non può non amare ballare.
- D) Anna ha tutti i requisiti per essere una brava ballerina.

**34) In quale Regione d’Italia si trova l’altopiano della Sila?**

- A) In Piemonte
- B) In Abruzzo
- C) In Molise
- D) In Calabria

**35) Completa la seguente serie: A – B – D – G – M**

- A) R
- B) S
- C) N
- D) Q

**36) Da quali istituzioni è formata la “Troika”?**

- A) Dagli USA, dal Fondo Monetario Internazionale e della Germania
- B) Dalla Germania, dagli USA e dalla Banca Centrale Europea
- C) Dal Fondo Monetario Internazionale, dalla Commissione Europea e dalla Banca Centrale Europea
- D) Dalla Commissione Europea, dal Fondo Monetario Internazionale e dalla Germania

**37) Completa i termini mancanti della proporzione: x : Complesso = Umile : y**

- A) x = complicato, y = ambizioso
- B) x = semplice, y = remissivo
- C) x = presuntuoso, y = difficile
- D) x = semplice, y = presuntuoso

**38) Marta, Giorgia, Alessia e Maria sono le quattro componenti di uno stesso gruppo.**

**Marta dice: “Giorgia aiuta gli altri meglio di tutti, è lei la migliore del nostro gruppo”**

**Giorgia dice: “Alessia aiuta gli altri meglio di tutti, è lei la migliore del nostro gruppo”**

**Alessia dice: “Io non aiuto gli altri meglio di tutti, non sono io la migliore del gruppo”**

**Maria dice: “Io non aiuto gli altri meglio di tutti, non sono io la migliore del gruppo”**

**Se solo una di queste affermazioni è vera, chi è la migliore del gruppo nell’aiutare gli altri?**

- A) Non è possibile stabilirlo
- B) Maria
- C) Alessia
- D) Giorgia

**39) Quando si parla di crisi economica di uno Stato, cosa s'intende con il concetto di "Default"?**

- A) Il fallimento delle politiche economiche e l'accesso al prestito internazionale
- B) Il fallimento del bilancio statale e l'impossibilità di rifondere il debito e gli interessi su esso maturati
- C) Il fallimento degli obiettivi economici pubblici e l'inasprimento della tassazione sui piccoli risparmiatori
- D) La chiusura delle banche e dell'accesso al credito per le imprese e le famiglie

**40) Completa la seguente successione di numeri: 20 – 19 – 17 – 17 – 14 – 15 –?**

- A) 11
- B) 20
- C) 9
- D) Nessuna delle precedenti

**Leggi il seguente brano e rispondi alle relative domande:**

**“La differenza fra i camaleonti sociali, alla deriva nella continua ricerca di fare buona impressione su tutti, e coloro che usano la propria brillantezza sociale in modo più conforme ai propri sentimenti, sembra risiedere in un altro tipo di auto-monitoraggio, probabilmente più importante. Si tratta della capacità di essere autentici, ‘fedeli a se stessi’, come si dice; un’abilità che consente di agire in armonia con i propri sentimenti e i propri valori più profondi, indipendentemente da quelle che potranno essere le conseguenze sociali del nostro atto. Tale integrità emozionale può benissimo portare l’individuo a provocare deliberatamente uno scontro per risolvere situazioni di doppiezza e negazione – una boccata di ossigeno che un camaleonte sociale non si permetterebbe mai” (Goleman, 1995, p.151).**

**41) Chi sono, secondo l’autore, i camaleonti sociali?**

- A) Gli individui fedeli a se stessi
- B) Gli individui che provocano uno scontro per risolvere le situazioni
- C) Coloro che vogliono fare buona impressione su tutti
- D) Gli individui narcisisti

**42) Cosa intende l’autore per integrità emozionale?**

- A) L’abilità di autocontrollarsi ed evitare di arrivare allo scontro
- B) La capacità di non perdersi d’animo nelle situazioni difficili
- C) La capacità di non far trapelare i propri sentimenti
- D) La capacità di agire secondo i propri sentimenti e valori

**43) Nel testo, il termine “doppiezza” sta per:**

- A) Malignità
- B) Falsità
- C) Caparbiazza
- D) Egocentrismo

**44) Al termine di una selezione per un premio di scrittura creativa, i primi otto partecipanti classificati (A, B, C, D, E, F, G, H – non necessariamente in quest’ordine) devono gareggiare due a due in prove a eliminazione diretta. Il primo classificato incontra l’ultimo, il secondo il penultimo, il terzo il terzultimo, il quarto incontra il quinto classificato. Si sa inoltre che:**

- Il partecipante A si è classificato per primo
- Il partecipante C si è classificato quarto e incontra il partecipante E
- Il partecipante D non incontra né il primo né il terzo classificato
- Il partecipante G si è classificato al secondo posto
- I partecipanti B e H si incontrano tra loro

**Chi si è classificato all’ottavo posto?**

- A) Il partecipante B
- B) Il partecipante H
- C) Il partecipante F
- D) Il partecipante D

**45) A quanto ammonta il debito pubblico italiano?**

- A) A circa 50 miliardi di euro
- B) A circa 200 miliardi di euro
- C) A circa 500 miliardi di euro
- D) A più di 2.000 miliardi di euro

**46) Quale delle seguenti serie di numeri contiene un’anomalia?**

- A) 15 – 30 – 29
- B) 28 – 56 – 55
- C) 31 – 62 – 60
- D) 17 – 34 – 33

**Leggi il seguente brano e rispondi alle relative domande:**

“Il presupposto – ampiamente condiviso in ambito psicologico e giuridico – che la tutela del benessere psicologico del minore possa concretizzarsi solo attraverso la protezione delle sue relazioni, dei suoi affetti e, più in generale, del microsistema familiare in cui egli cresce e si sviluppa, diviene particolarmente saliente nelle situazioni di separazione e divorzio dei genitori. Nel contesto italiano, i tassi di separazione e divorzio sono in continua crescita: infatti, se nel 1995 per ogni 1000 matrimoni erano 158 le separazioni e 80 i divorzi, nel 2010 si arriva a 307 separazioni e 182 divorzi (ISTAT, 2012). Tale crescita esponenziale, sebbene abbia determinato una certa normalizzazione del fenomeno separazione/divorzio all’interno della nostra cultura, non ne ha comunque modificato il profilo di rottura del progetto esistenziale nella vita degli individui. Infatti, la crisi e la conflittualità che frequentemente caratterizzano le separazioni, mettono in evidenza come questo evento non abbia perso nulla del suo peso emotivo all’interno della vita affettiva delle persone coinvolte” (Camisasca, 2013, p. 7).

**47) Quale non potrebbe essere un titolo per questo brano?**

- A) Legami interrotti: i casi di separazione/divorzio
- B) Normalizzazione dei casi di separazione/divorzio e conseguenze positive per lo sviluppo dei minori
- C) Normalizzazione dei casi di separazione/divorzio e conseguenze per lo sviluppo dei minori
- D) Tutela dei minori e fenomeno di separazione/divorzio



**48) Quale delle seguenti conclusioni è deducibile dal testo?**

- A) La crisi e la conflittualità che frequentemente caratterizzano le separazioni, mettono in evidenza come questo evento non abbia perso nulla del suo peso emotivo all'interno della vita affettiva delle persone coinvolte
- B) All'aumento della frequenza di separazioni e divorzi corrisponde in modo proporzionale una diminuzione del peso emotivo di tali eventi all'interno della vita affettiva delle persone coinvolte
- C) All'aumento della frequenza di separazioni e divorzi corrisponde un aumento del peso emotivo di tali eventi all'interno della vita affettiva delle persone coinvolte
- D) La normalità che frequentemente caratterizza le separazioni, mette in evidenza come questo evento abbia assunto un peso emotivo minore all'interno della vita affettiva delle persone coinvolte

**49) Quale catena montuosa forma il confine naturale tra Europa e Asia?**

- A) I Balcani
- B) I Carpazi
- C) Gli Urali
- D) Il Caucaso

**50) Chi è stato il primo imperatore di Roma?**

- A) Tarquinio il Superbo
- B) Giulio Cesare
- C) Ottaviano Augusto
- D) Marco Aurelio

**In base alle informazioni contenute nel brano seguente, rispondere alle successive domande:**

**“Per quanto si consideri la menzogna qualcosa di riprovevole e condannabile, abitualmente ne facciamo tutti un gran uso. È stato dimostrato come l’atto del mentire sia di fatto una situazione diffusa e quotidiana: è infatti documentata la presenza di una menzogna almeno ogni tre interazioni tra persone. Le bugie di cui si parla sono del tipo meno grave e meno impegnativo ma palesano comunque la presenza della menzogna nella vita di ogni persona (Anolli, 2003, p. 23). A incentivare l’uso della menzogna sono il suo aspetto evolutivo, adattivo e la sua componente sociale. La menzogna, infatti, può essere considerata un aspetto dell’intelligenza sociale, cioè uno strumento che facilita gli uomini nelle loro relazioni interpersonali, rendendole più fluente e piacevoli (De Cataldo, 2008, p. 36). Nonostante la menzogna sia qualcosa di così comune, il suo studio a livello psicologico non è stato molto approfondito. Non esiste una vera e propria psicologia della menzogna forse anche perché la tematica, prettamente mentalistica, ne rende difficile l’oggettivazione (ibidem, pp. 232-233)” (Pichi, Catania e Formella, 2012).**

**51) Identifica l’affermazione non coerente con i contenuti del brano.**

- A) Le menzogne, presenti nella vita di ogni persona, possono essere incentivate da fattori specifici.
- B) L’uso della menzogna ha ricadute positive sulle interazioni sociali in cui sono coinvolti gli individui.
- C) Le menzogne, frequenti nella vita di ogni persona, non sono imputabili a fattori specifici.
- D) L’oggettivazione della menzogna implica definirla in modo chiaro e identificare delle modalità concrete per valutarla.

**52) Identifica l'affermazione coerente con i contenuti del brano.**

- A) È probabile che almeno ogni tre interazioni tra persone diverse sia presente una menzogna.
- B) Se due persone interagiscono tra loro, non possono essere presenti menzogne.
- C) È probabile che almeno ogni tre interazioni tra le stesse persone o tra persone diverse sia presente una menzogna.
- D) Nelle interazioni tra persone, almeno ogni tre interazioni di sicuro è presente una menzogna.

**53) Quale non potrebbe essere un titolo per questo brano?**

- A) La menzogna: nostra nemica e alleata
- B) Frequenza d'uso, vantaggi e svantaggi della menzogna
- C) Aspetti negativi dell'uso della menzogna
- D) Lo studio della menzogna nella letteratura psicologica

**54) Che cos'è il "bradisismo"?**

- A) Un fenomeno meteorologico caratterizzato per la permanenza di basse pressioni atmosferiche
- B) Una malattia neurologica caratterizzata per la lentezza dei movimenti
- C) Un fenomeno fisico caratterizzato per il movimento del terreno in zone vulcaniche
- D) Nessuna delle precedenti risposte

**55) Quali Regioni d'Italia sono bagnate dal fiume Tevere?**

- A) Emilia-Romagna, Toscana, Umbria e Lazio
- B) Toscana, Umbria, Lazio
- C) Toscana, Lazio
- D) Lazio

**56) In quale, tra i seguenti stati, si è recentemente tenuto un referendum sull'indipendenza di una regione?**

- A) In Spagna
- B) In Belgio
- C) In Gran Bretagna
- D) In Serbia

**57) Individua quale delle seguenti frasi contiene un errore:**

- A) Abbiamo incontrato un altro compagno
- B) Ieri ho visto un'eclissi di sole
- C) La professoressa ha salutato un'allieva
- D) Ho sentito un'eco

**58) Indica la parola da scartare:**

- A) Ma
- B) Tuttavia
- C) Mentre
- D) Invece

**59) Marco ogni domenica va al cinema. Oggi è mercoledì. Quale fra le seguenti affermazioni è logicamente equivalente a tale affermazione?**

- A) Sicuramente oggi Marco non andrà al cinema
- B) Marco la prossima domenica non andrà al cinema
- C) Marco va al cinema una volta in settimana
- D) Non si può dire con certezza se oggi Marco andrà al cinema

**60) Quale, tra i seguenti stati, non fa parte dell'Unione Europea?**

- A) L'Ucraina
- B) La Bulgaria
- C) L'Ungheria
- D) La Slovacchia